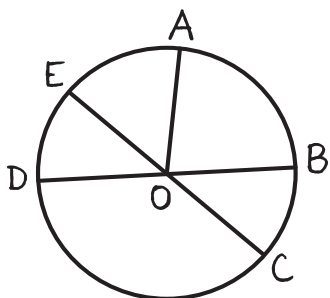


LE CERCLE - CARTES À PINCES : Choisir la réponse exacte



Mes Cartes Mentales



[OA] est...

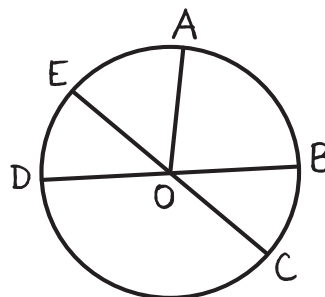
un  
rayon

un  
diamètre

© Groupe Eyrolles - www.mescartesmentales.fr



Mes Cartes Mentales



[OC] est...

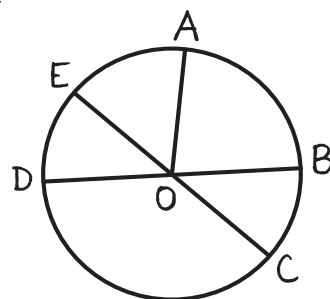
un  
centre

un  
rayon

© Groupe Eyrolles - www.mescartesmentales.fr



Mes Cartes Mentales



[OB] est...

un  
centre

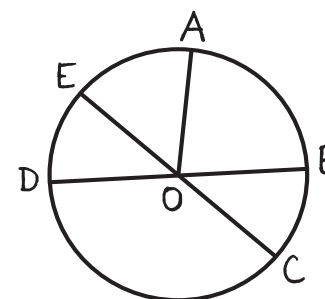
un  
rayon

un  
diamètre

© Groupe Eyrolles - www.mescartesmentales.fr



Mes Cartes Mentales



[OD] est...

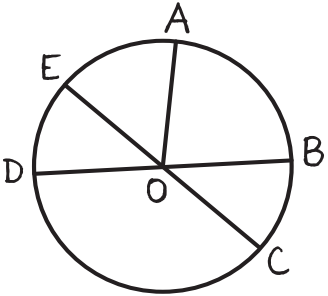
un  
diamètre

un  
centre

un  
rayon

© Groupe Eyrolles - www.mescartesmentales.fr

LE CERCLE - CARTES À PINCES : Choisir la réponse exacte

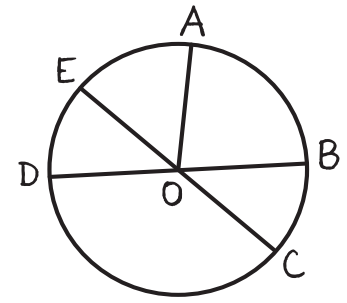


D est...

un point  
du cercle

le centre  
du cercle

© Groupe Eyrolles - www.mescartesmentales.fr

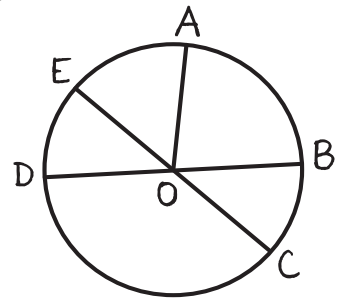


E est...

un point  
du cercle

le centre  
du cercle

© Groupe Eyrolles - www.mescartesmentales.fr



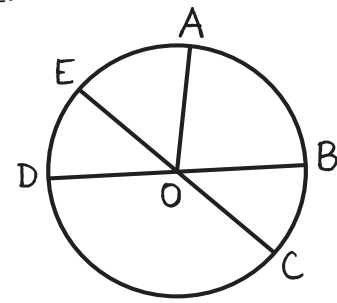
Je suis un segment  
allant du centre à  
un point du cercle.  
Je suis...

un  
point

un  
rayon

un  
diamètre

© Groupe Eyrolles - www.mescartesmentales.fr



Je suis un segment  
passant par le centre  
et reliant deux points  
du cercle.  
Je suis...

Un  
rayon

un  
point

un  
diamètre

© Groupe Eyrolles - www.mescartesmentales.fr